


## Les Grands repères géographiques du monde :

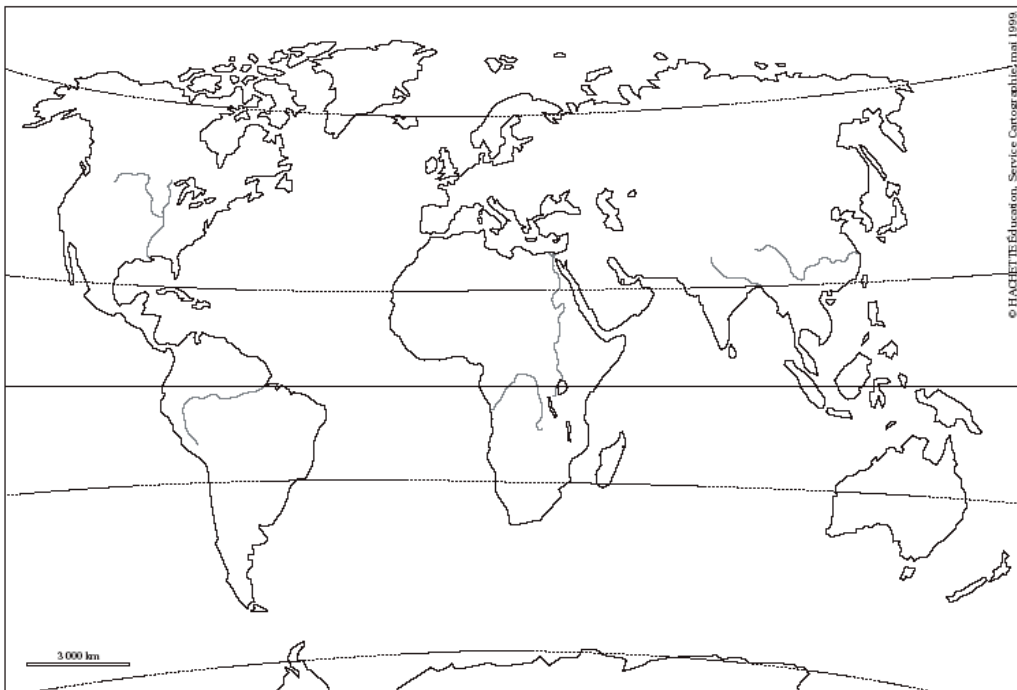
En 2012 se sont déroulés les Jeux Olympiques à Londres au Royaume Uni. Sur le document 1 figure le drapeau olympique, mais les couleurs ont disparu. Chacune de ces couleurs correspond à une partie du monde.

- 1) **Colorie** le drapeau avec les bonnes couleurs.
- 2) **Colorie** sur la carte les différentes parties du monde avec la couleur précédente.
- 3) **Compète** la **légende** en coloriant les rectangles et en donnant le nom de l'espace.
- 4) **Compète** la carte avec **les noms des océans**
- 5) **Place un point rouge sur le Congo, un bleu sur la France.**

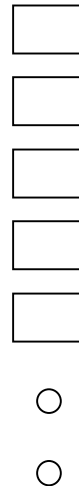


### Document 1 :

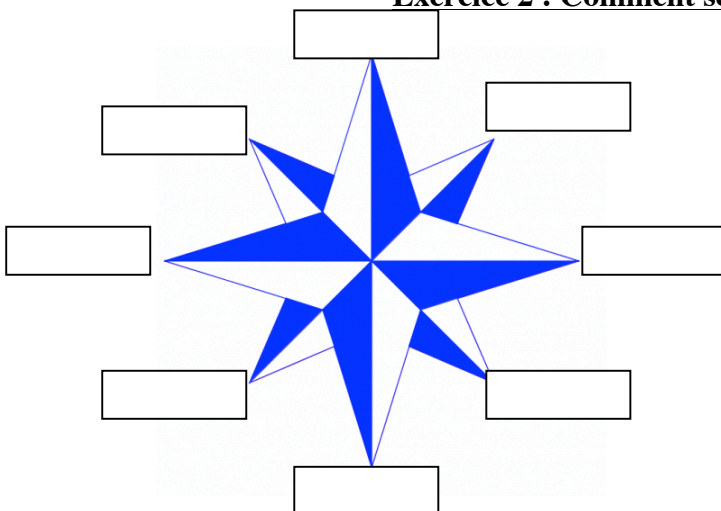
Afrique : noir  
Asie : jaune  
Amérique : rouge  
Europe : bleu  
Océanie : vert



### Légende :



### Exercice 2 : Comment se repérer sur terre ?



6) Complète la rose des vents

7) Complète ces phrases en utilisant les points cardinaux :

**Le Congo** se situe à..... du continent ..... et à ..... de l'océan.....

**La France** se situe à..... du continent ..... et à .....de l'océan .....