

Les montagnes dans le monde :





Objectifs :

- Analyser le mode de vie des populations d'après un reportage vidéo.
- Comparer la vie dans les Alpes et dans une autre chaîne de montagnes.

Exercice 1 : *Le village de Pelling : une population avec différentes activités.*

1/ **Situe le village:** Le continent : Le pays: La chaîne de Montagne:

2/ **Trouve un titre puis donne les caractéristiques de ces photographies de Pelling**

	Le Titre	Caractéristiques du lieu
		
		
		
		

Exercice 2 : *Réalisation du schéma spatial de Pelling :*

3/ **Complète le schéma de ce paysage et complète la légende**

Titre:

Légende:

Éléments naturels:

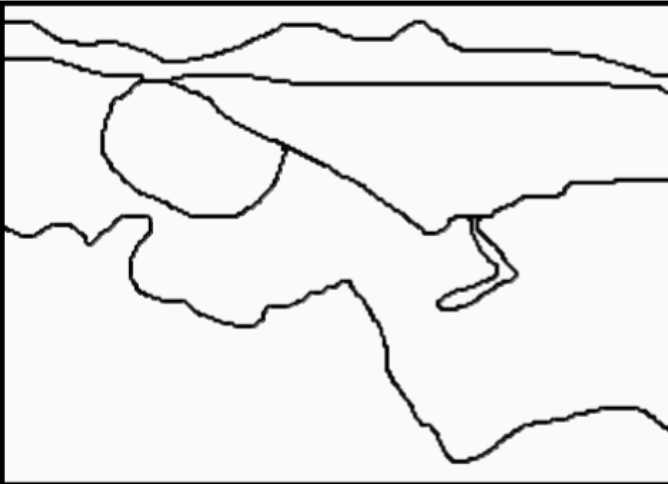
Forêt

Neige et Glaciers

Rivière

Activités humaines:

Espace cultivé Espace habité



Voie de communication (Route (à tracer en rouge sur le croquis))

Exercice 3 : *Les aménagements et la transformation du paysage par les Hommes :*

4/ A partir de l'exemple ci dessous complète le tableau suivant :

Activités dans le village	Objectifs	Transformation du paysage
Agriculture	Nourrir les habitants Agriculture vivrière	Construction de terrasses
Concassage de Pierre		
Hydro-électricité		
Exploitation de la forêt		
Plantation d'agrumes		
Plantation de cardamome		

Exercice 4 : *Schéma spatial d'une culture en terrasse :*



Bilan : *Comparer dans un tableau de synthèse les activités entre les Alpes Suisses et l'Himalaya.*

	<u>Alpes Suisses</u>	<u>Himalaya</u>
<u>Contraintes</u>		
<u>Atouts</u>		
<u>Activités économiques</u>		