

Le cauchemar de Darwin

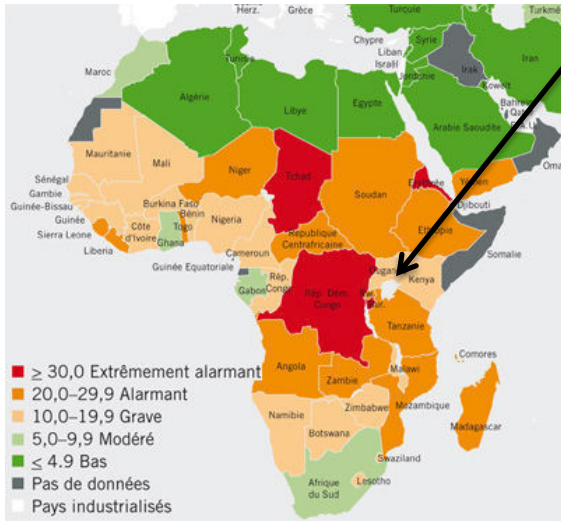
Hubert Sauper (2004)

Objectifs :

- Confronter des documents sur l'introduction de la Perche du Nil à un documentaire
- Mettre en perspective un documentaire par rapport à l'étude réalisée en classe sur l'alimentation.

Premier extrait : carte de l'insécurité alimentaire région. + Scène (3'12 - 10'30).

Doc 1: Carte de l'insécurité alimentaire Afrique www.acted.org



1/ Où se situe le lac Victoria ?

.....

2/ Quelle est la situation alimentaire de la région ?

.....

3/ Comment le réalisateur dénonce t-il ce déséquilibre alimentaire au début du film ?

.....

.....

.....

2ème extrait : Texte sur l'introduction de la Perche et ses conséquences : (10'46 - 14'02) (56'40 - 1h03)

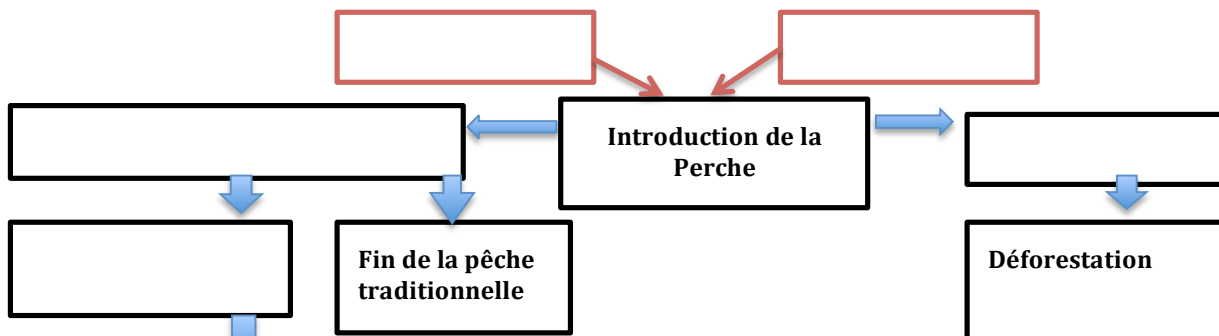
Document 2 : Raisons et conséquences de l'introduction de la Perche

Afin de fournir un produit d'exportation pour la sécurité alimentaire des gens vivant en Afrique de l'Est, la perche du Nil a été introduite dans le lac Victoria en 1954. Jusqu'à l'introduction de la perche, le lac abritait des poissons qui se nourrissent d'algues. La perche du Nil est un prédateur qui s'est nourri des poissons du lac. Les pêcheurs locaux, dont les filets n'étaient faits que pour capturer ces poissons n'ont plus rien à pêcher. **La disparition des poissons herbivores** a entraîné une **augmentation des algues**, entraînant la **disparition de l'oxygène dans l'eau** et **l'asphyxie des perches**. La chair de la perche du Nil doit être préservée par fumage, de telle sorte que les forêts autour du lac ont été coupées pour faire du feu servant au **fumage de la perche**.

D'après R.E. Ricklieds et G.L. Miller, Ecologie, 2005.

4/ A partir du texte ci dessus et du documentaire, complète le schéma suivant :

- en rouge les deux raisons pour lesquelles la Perche du Nil a été introduite dans le lac Victoria
- en noir les conséquences (les mots à placer sont soulignés dans le texte)



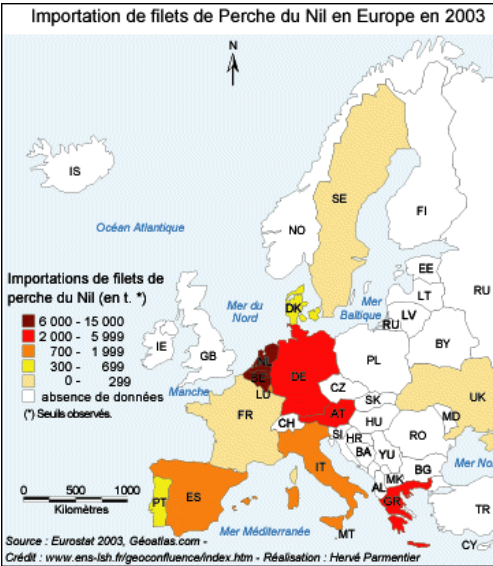
5/ Quelles sont les conséquences positives relevées par certains acteurs pendant la conférence ?

.....

.....

.....

3^{ème} extrait : L'exportation en Europe : (1h08'35 - 1h10), (1h12 - 1h16)



Document 3 : Un produit d'exportation

À l'initiative d'investisseurs étrangers et, en partie, avec l'aide de l'Union Européenne, une pêche industrielle s'est organisée : bateaux à moteurs, usines de traitement du poisson, exportation des filets frais vers l'Europe. Chaque semaine, environ cinq avions cargos venus d'Ukraine, de Hollande ou de Belgique atterrissent à l'aéroport de Mwanza pour emporter environ 400 tonnes de filets de Perche du Nil vers l'Europe ou l'Asie. L'Europe est donc un important marché pour la Perche du Nil, essentiellement écoulee par la grande distribution. En 2003, les importations de l'UE se sont élevées à 45 000 tonnes, la Belgique et les Pays-Bas en étant les premiers importateurs. La France en aurait consommé 2 200 tonnes en 2004. Par contre, les importations espagnoles, très importantes au début des années 1990, ont tendance à décroître, du fait de campagnes de presse négatives et de autres sources d'approvisionnement en produits de la pêche.

Source : Sur Agritrade, portail du Centre Technique de Coopération Agricole et Rurale.

6/ Relève le nom des acteurs qui ont favorisé l'exploitation économique de la perche :

.....

.....

7/ Quels sont les moyens utilisés pour pêcher, conditionner et exporter la Perche du Nil ?

.....

.....

8/ Quels sont les pays qui en importent le plus? Qui vend ces poissons ?

.....

.....

9/ Explique pourquoi la Perche du Nil est de moins en moins consommée en Espagne

.....

.....

Bilan : Comment le documentaire illustre-t-il les problèmes de l'alimentation dans un pays pauvre?

.....

.....

.....

.....