

## Habiter des îles : l'exemple de la Bretagne :

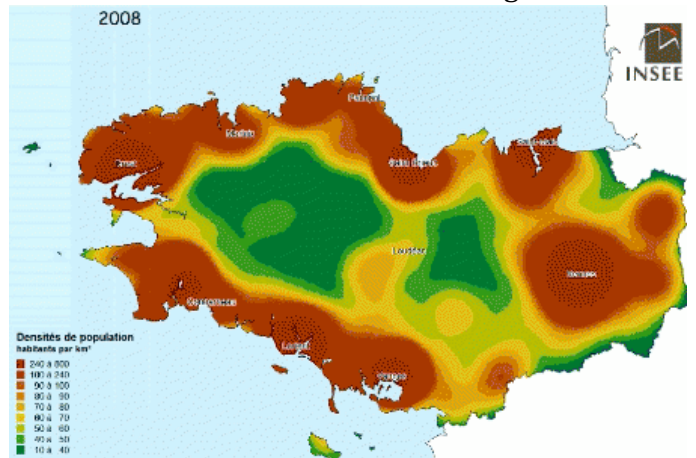
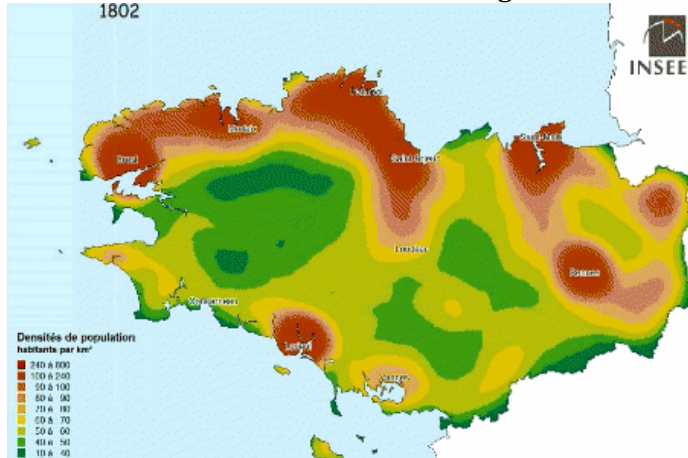
### Objectifs :

- Utiliser la densité pour étudier la répartition de la population en Bretagne et son évolution.
- Relever les difficultés à vivre sur une île et les moyens pour les surmonter.
- Synthétiser les informations importantes dans un schéma de synthèse

### Exercice 1 : L'évolution de la densité en Bretagne entre 1802 et 2008

**Doc 1 a :** Carte de la densité en Bretagne en 1802

**Doc 1 b :** Carte de la densité en Bretagne en 2008



1/ Comment la densité de la population a-t-elle évoluée en Bretagne depuis 200 ans ?

.....

.....

2/ Les îles bretonnes connaissent-elles la même évolution ? (île de Groix et île d'Ouessant)

.....

.....

### Exercice 2 : Expliquer les faibles densités sur les îles bretonnes :

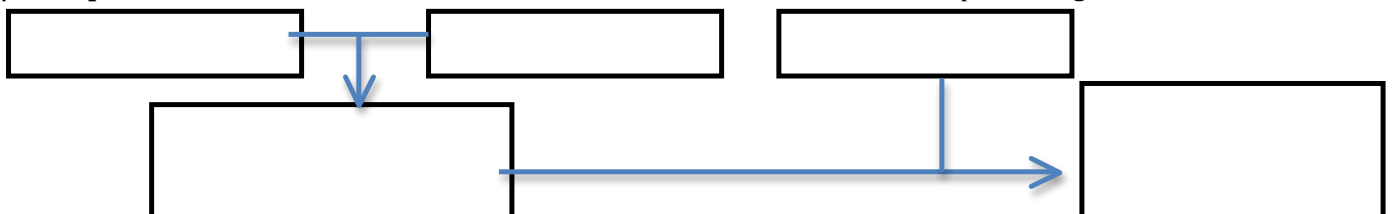


#### **Document 2 : Les contraintes climatiques :**

La compagnie maritime Penn ar Bed a décidé de ne pas assurer ses liaisons avec les îles de Sein, Molène et Ouessant (autres îles bretonnes) dont les habitants se trouvent ainsi isolés pour la journée de dimanche, de même que la Société morbihannaise de navigation qui a interrompu ses rotations vers Groix, Belle-Île-en-Mer, Houat et Hoëdic. De son côté, la compagnie Brittany Ferries a annulé sa liaison entre Cherbourg et Poole.

20 minutes, 9 décembre 2007

3/ Complète le schéma avec les mots: *tourisme, insulaire, isolement, tempêtes, augmentation de la densité*



**Exercice 3 : Les liens entre le tourisme et le peuplement :**

**Document 3 : L'évolution des activités :**

Groix a été le premier port français d'armement (*port de départ des bateaux de pêche*) au thon germon (*thon blanc*) [...]. Les nombreux thoniers [...] débarquaient leur pêche sur l'île où étaient installées des conserveries (*fabrique de conserves*). Les cinq conserveries de Port-Tudy, Loctudy et Port-Lay ont fermé leurs portes les unes après les autres. Désormais, la plupart des marins groisillons sont embarqués sur des navires lorientais. Aujourd'hui, les bateaux de plaisance ont remplacé les navires armés à la pêche à Loctudy et aussi dans les autres anses abritées de l'île.

Site Internet de l'île de Groix, [www.ile-de-groix.com](http://www.ile-de-groix.com)

**Document 4 : L'essor du tourisme :**

«Ce n'est pas facile de trouver à se loger sur l'île. Les locations ne se font guère à l'année, la saison (période touristique, pendant l'été) suffit aux propriétaires. Le prix des maisons est élevé et ne cesse d'augmenter depuis quelques années.

La population de l'île diminue chaque année un peu plus. Le dernier recensement compte 2 275 personnes pour plus de 3 100 en 1968. Un exemple : cette année au CP, l'école publique n'accueille que six enfants.

Les îles sont perçues plus comme des lieux de vacances, voire des lieux plus « sécurisants » pour les résidents secondaires (personne qui n'habite pas sur l'île toute l'année) aux volets fermés de longs mois durant.

Une île comme Groix ne peut cependant pas se permettre de vivre seulement le week-end ou durant les vacances scolaires.

D'après **Paskal Mazé**, *Le Télégramme de Brest*, 28 octobre 2003

4/ Quelle était l'activité dominante dans les îles bretonnes ? Quelle activité domine aujourd'hui ?

.....

.....

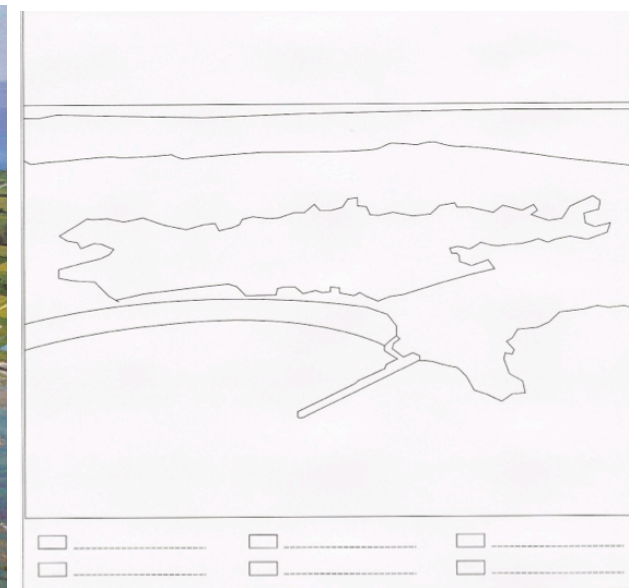
5/ Le tourisme est-il une solution durable pour fixer des populations sur l'île ? Justifie ta réponse

.....

.....

6/ Représente à l'aide de couleurs et de figurés le croquis de ce paysage de l'île de Groix :

- **Les territoires** : L'océan, les champs, le village de Locmaria
- **Les transformations liées au tourisme**: La digue, la plage
- **L'arrivée des plaisanciers**. Le port de plaisance



**Bilan :** Explique l'évolution de la population et des activités sur les îles bretonnes :

.....

.....

.....