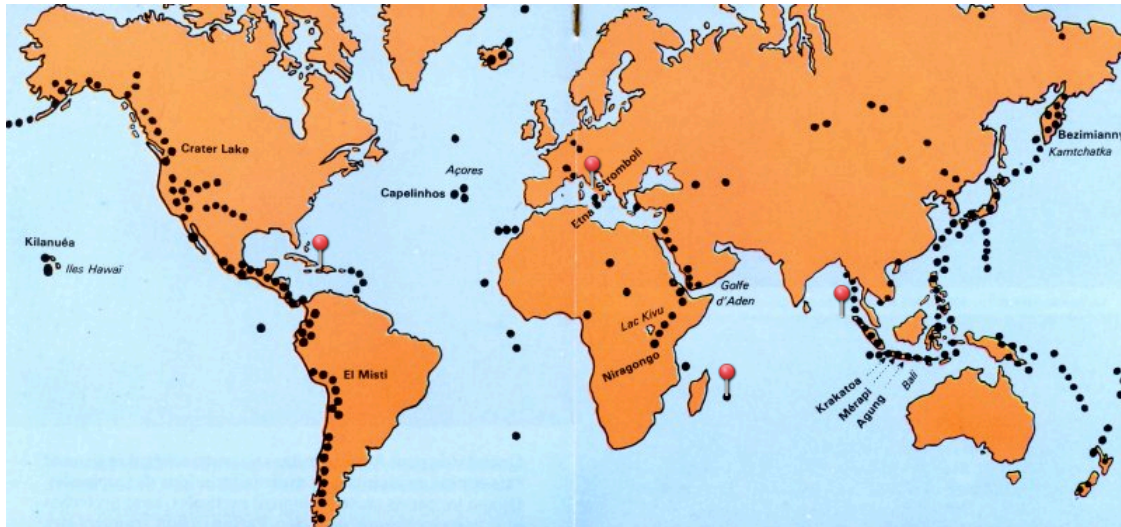


Exercice 4 : Localiser les grandes villes et les foyers de peuplement

/ 3 points

5/ Complète ce schéma en **localisant les éléments suivants :**

- Le Piton de la Fournaise
- Le Vésuve
- Port au Prince
- Le Tsunami du 26 décembre 2004.





Document 1 : Localisation des principaux volcans du monde.

5/ Quels sont les continents les plus exposés aux risques volcaniques ?

.....

Exercice 5 : Reconnaître le mouvement de plaques tectoniques .

/ 3 points



6/ Retrouve ci dessous le nom des trois mouvements : convergence, divergence, coulissement.

7/ Justifie tes réponses : Explique pourquoi tu as choisi cette réponse, pense à décrire les photographies.

■ convergence :

.....

■ divergence :

.....

■ coulissement :

.....

Exercice 6 : Ecrire un texte pour expliquer un tsunami

/ 4 points



Document 5 : Littoral d’Aceh, Indonésie, décembre 2004

8/ Dans un petit texte, **décris et explique la naissance d’un Tsunami.**

- *Commence par évoquer son origine et l’énergie libérée*
- *Explique ensuite pourquoi une « vague » se forme.*
- *Termine en évoquant les conséquences pour les Hommes et ses activités et les territoires plus vulnérables*

.....

.....

.....

.....

.....

.....

.....

.....

Point bonus : Donne les règles de sécurité à suivre en cas de séisme. *(ce qu’il est préférable de faire.)*

.....

.....

.....

.....