




Nom : Prénom :	<b>Observations :</b>	<b>Géo : La répartition de la population et ses dynamiques</b>
		<i>Point le plus positif</i>

*G. Buatois, Collège du Léman, Genève, Suisse, 2015/2016*

<b>Barème d'évaluation par compétences</b>	<b>Acquis</b>	<b>En cours</b>	<b>Non acquis</b>
<b>Maîtriser les notions essentielles et le vocabulaire des leçons</b>			
<b>Raisonnement en utilisant les connaissances du cours</b>			
<b>Avoir des repères cartographiques</b>			
<b>Analyser un foyer de peuplement : L'Europe.</b>			

**Exercice 1 : Les notions :**

1/ En utilisant le cahier, **trouve trois notions correspondant à ces photographies puis définis les :**

<b>Images</b>			
<b>Notions</b>			
<b>Définition</b>			

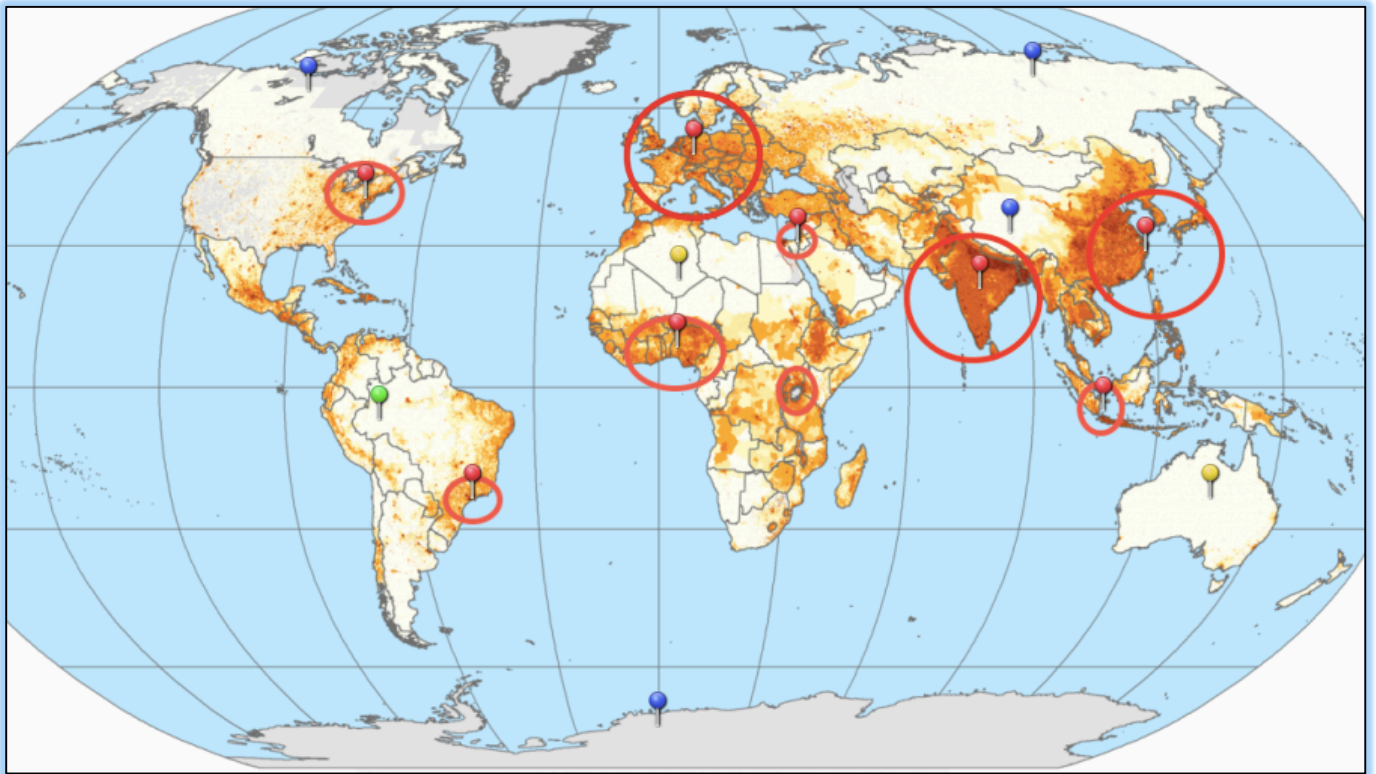
**Exercice 2 : Les connaissances sur le cours :**

2/ **Entoure les réponses exactes et corrige à côté les erreurs des 10 propositions suivantes**

- La densité permet de calculer le nombre d'enfants dans une population.
- On calcule la densité en divisant la superficie du territoire par la population.
- Le vide de peuplement en Amazonie s'explique par une forêt trop dense
- L'Inde est le pays le plus peuplé au monde
- Il y a 2000 ans les plus grands foyers de populations étaient l'Asie et l'Afrique.
- Les foyers de populations sont en majorité situés à l'intérieur des continents
- La riziculture permet d'avoir des récoltes importantes et une population nombreuse
- L'exode rural en Chine correspond au départ définitif des populations urbaines pour les campagnes
- Les populations chinoises s'installent en ville pour travailler et gagner plus d'argent
- La densité de la population en Chine est équilibrée, la population est bien répartie dans le pays

**Exercice 4 :** Localiser les foyers de peuplement

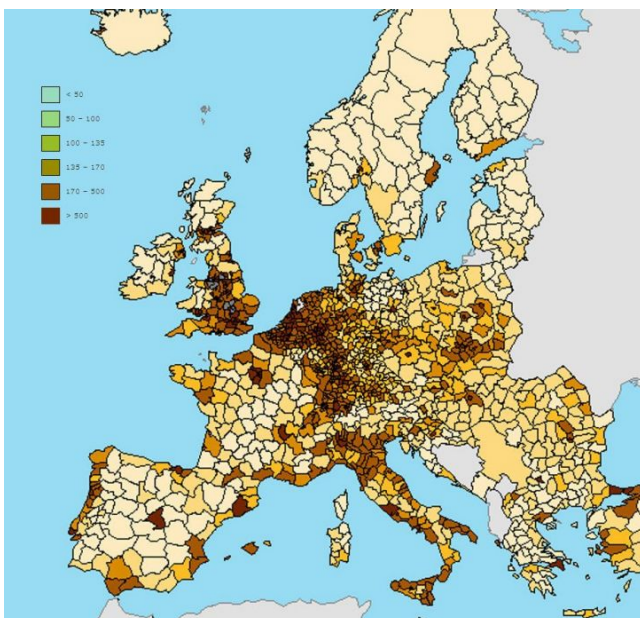
<http://learningapps.org/display?v=p3k2x4mq515> (le lien est sur le site [histoirepasapas.com](http://histoirepasapas.com))



3/ Sur la carte indique le nom des espaces suivants :

- les 3 principaux foyers de population (*en rouge*)
- les 5 foyers secondaires (*en orange*)
- les déserts froids (*en bleu*)
- les déserts chauds (*en jaune*)
- le désert humide (*en vert*)

**Exercice 5 :** L'évolution de la densité en Europe.



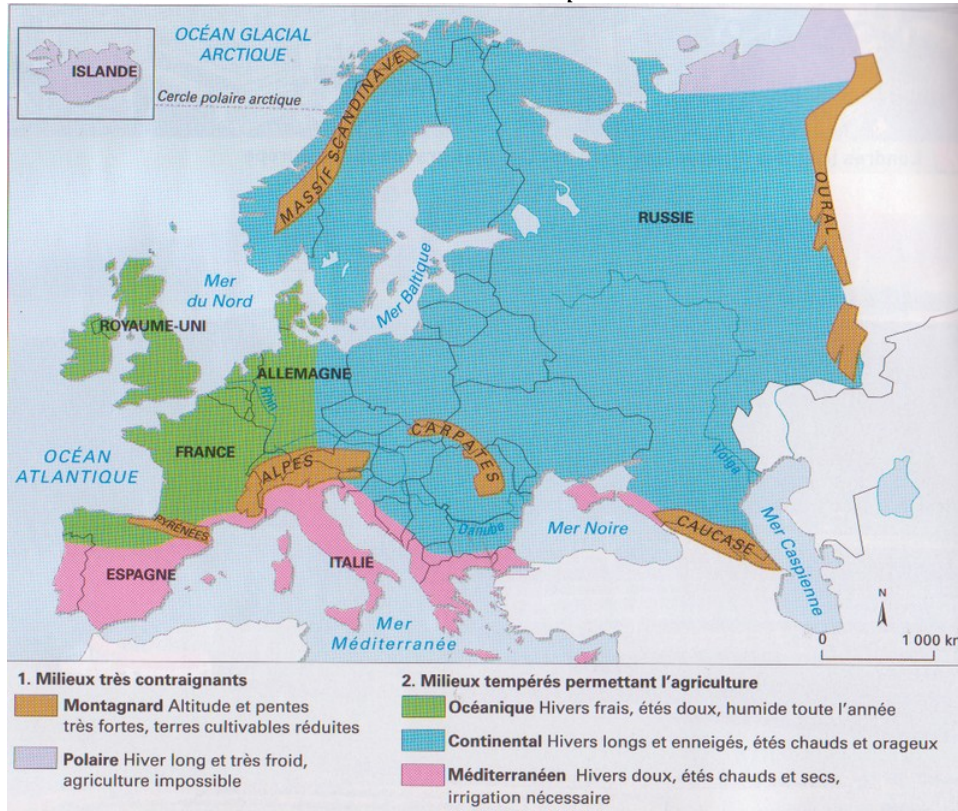
**Doc 1 : Un peuplement inégal :**

« L'occupation humaine est vraiment intense sur de grandes surfaces en Europe de l'Ouest. **Une dorsale de peuplement** très serrée s'étend depuis le cœur de l'Angleterre jusqu'en Italie du Nord sur de vieilles régions de tradition urbaine et industrielle avec plus de 500 habitants par km<sup>2</sup> dans la région de Londres et dans l'Ouest de l'Allemagne. De chaque côté de cette dorsale, les densités de population sont plus faibles, parfois très faibles. »

**Jean Thumerelle**, Les populations du monde, Nathan, 1996

4/ Sur la carte entoure en noir la région qui concentre les plus fortes densités en Europe. Utilise le texte pour vérifier où se situe cette « dorsale de peuplement »

**Document 2 : Les milieux naturels en Europe :**



**Doc 3 : Un peuplement lié au développement**  
 « Une vieille civilisation agricole a contribué à la formation des densités, mais les campagnes n'ont jamais été très peuplées et se sont largement vidées depuis plus d'un siècle. Les seules véritables accumulations humaines s'expliquent par le développement d'activités secondaires et tertiaires (les industries et les services) dans les bassins miniers ou les grandes villes »  
**D'après D. Noin, Géographie de la population, 2008**

5/ Quels éléments naturels peuvent expliquer les faibles densités de population en Europe ? Pourquoi ?

.....

.....

6/ Dans quels milieux se situent les plus fortes densités de population en Europe ? Pourquoi ?

.....

.....

**Doc 4 : L'héritage historique :**

*L'ancienneté du commerce :*

« La dorsale est née des échanges commerciaux intenses depuis le Moyen Age entre les deux grands foyers d'activité de la mer du Nord et de la Méditerranée. »

**Roger Brunet** « Lignes de force de l'espace européen » Mappemonde, n°66, 2002

**Le rôle de l'industrie**

« La carte des fortes densités européennes regroupe encore largement celle des anciens gisements de charbon exploités au XIXème siècle. »

**Guy Baudelle**, « Géographie du peuplement », Armand Colin, 2003

7/ Quelles activités permettent d'expliquer les fortes concentrations de population en Europe ?

.....

.....

**Bilan :** Comment expliquer la répartition de la population européenne ?

.....

.....